

Examenul național de bacalaureat 2022
Proba E. d)
Geografie

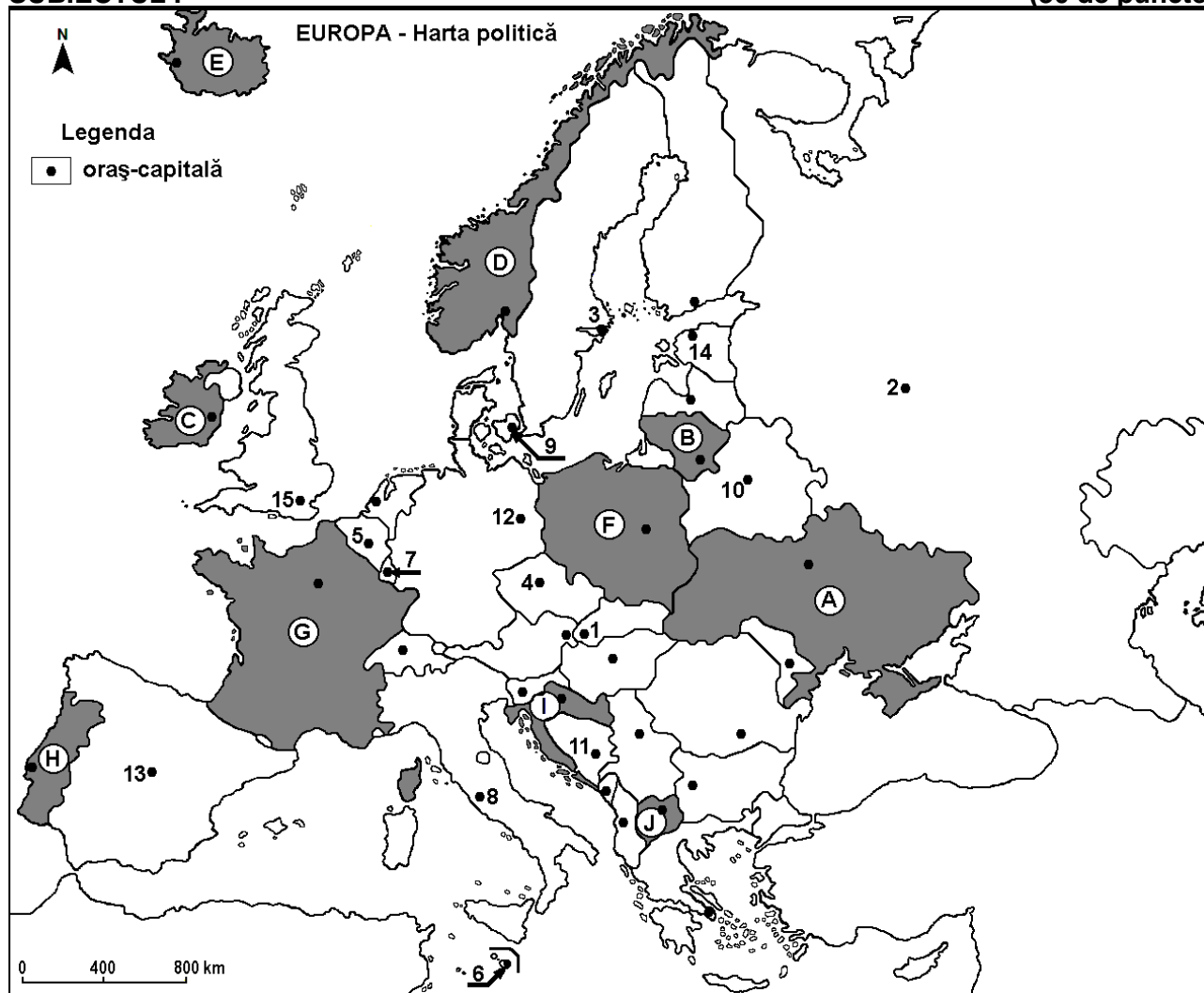
Model

Profilul umanist din filiera teoretică, profilul servicii din filiera tehnologică și toate profilurile și specializările din filiera vocațională, cu excepția profilului militar

- Toate subiectele sunt obligatorii. Se acordă zece puncte din oficiu.
- Timpul efectiv de lucru este de trei ore.

SUBIECTUL I

(30 de puncte)



Harta de mai sus se referă la subiectul I A – E. Pe hartă sunt marcate state cu litere și orașe - capitală cu numere.

A. Precizați:

1. numele statului marcat, pe hartă, cu litera **B**;
2. numele orașului-capitală marcat, pe hartă, cu numărul **12**.

4 puncte

B. Scrieți, pe foaia de examen, răspunsurile corecte care completează afirmațiile de mai jos:

1. Orașul marcat, pe hartă, cu numărul **5** este capitala statului numit ...
2. Statul marcat, pe hartă, cu litera **I** se numește ...
3. Capitala statului marcat, pe hartă, cu litera **C** este orașul numit ...

6 puncte

C. Scrieți, pe foaia de examen, litera corespunzătoare răspunsului corect pentru fiecare dintre afirmațiile de mai jos:

- Orașul marcat, pe hartă, cu numărul 1 este capitala statului numit:
a. Cehia b. Slovacia c. Slovenia d. Ungaria **2 puncte**
- Statul Vatican este o enclavă situată în orașul marcat, pe hartă, cu numărul:
a. 3 b. 4 c. 8 d. 11 **2 puncte**
- Câmpia Nord-Europeană se află pe teritoriul statului marcat, pe hartă, cu litera:
a. C b. F c. H d. J **2 puncte**
- Cel mai mare oraș european, ca număr de locuitori, este marcat, pe hartă, cu numărul:
a. 2 b. 3 c. 12 d. 13 **2 puncte**
- Orașul-capitală marcat, pe hartă, cu numărul 10 se numește:
a. Kiev b. Minsk c. Moscova d. Varșovia **2 puncte**

D. Prezentați trei deosebiri între **clima** statului marcat, pe hartă, cu litera **A** și **clima** statului marcat, pe hartă, cu litera **D**.

Nota 1: Deosebirile se pot referi la oricare dintre următoarele elemente de **climă**: factori genetici, tip de climă, temperaturi medii anuale/vara/iarna, amplitudine termică, precipitații medii anuale/vara/iarna, vânturi cu frecvență ridicată, alte aspecte climatice.

Nota 2: Punctajul complet va fi acordat numai dacă deosebirile vor fi prezentate comparativ și nu separat.

Nota 3: Nu este necesară precizarea numelor statelor, se poate face referire la statele respective cu literele cu care sunt marcate pe hartă. **6 puncte**

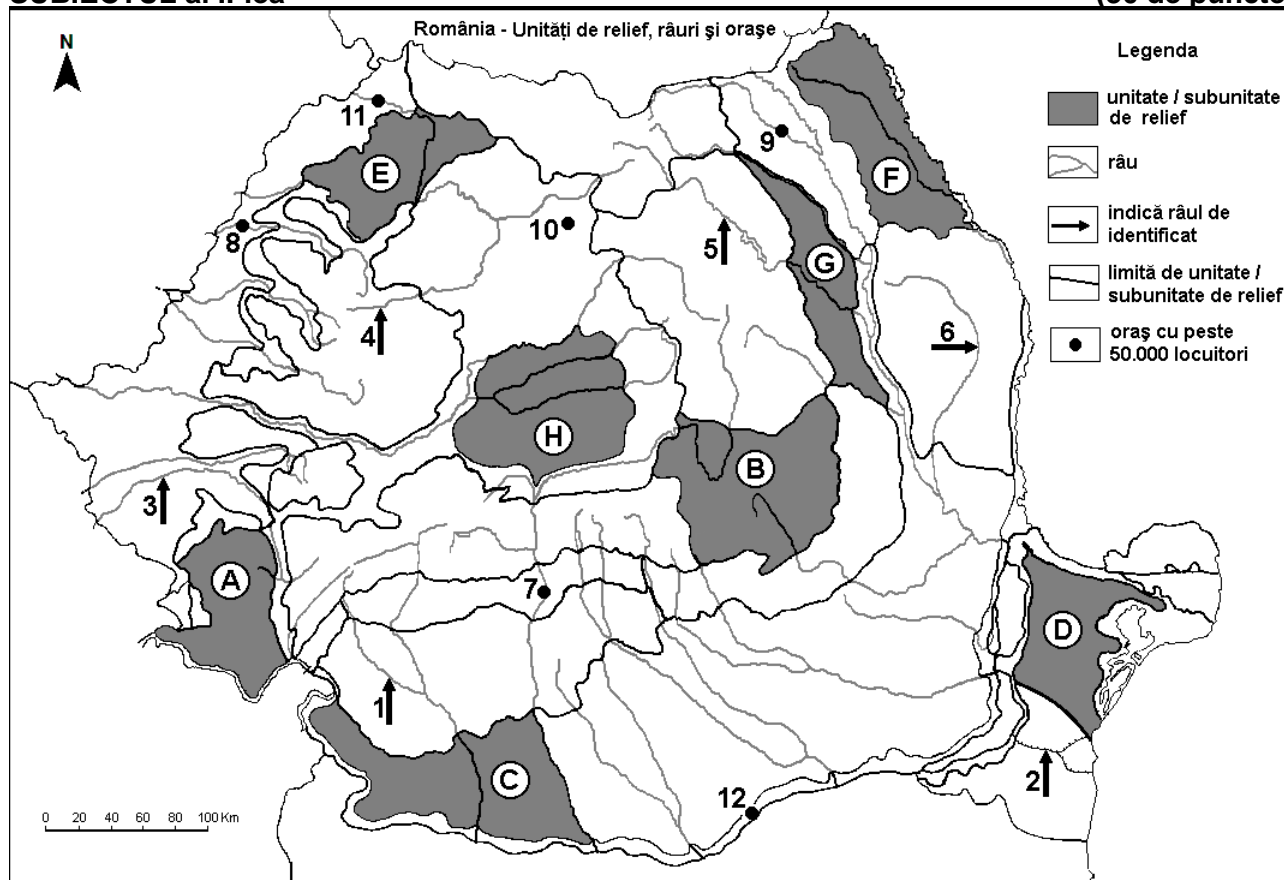
E. Explicați:

- faptul că în statul marcat, pe hartă, cu litera **E** predomină utilizarea energiei geotermice.
- existența vegetației de tip maquis în sudul statului marcat, pe hartă, cu litera **G**.

4 puncte

SUBIECTUL al II-lea

(30 de puncte)



Harta de mai sus se referă la subiectul II A – E. Pe hartă sunt marcate unități de relief cu litere, râuri cu numere de la 1 la 6 și orașe cu numere de la 7 la 12.

A. Precizați:

- numele orașului marcat, pe hartă, cu numărul 12;
- numele râului marcat, pe hartă, cu numărul 5.

4 puncte

B. Scrieți, pe foaia de examen, răspunsurile corecte care completează afirmațiile de mai jos:

1. Canalul Dunăre-Marea Neagră este marcat, pe hartă, cu numărul ...
2. Orașul marcat, pe hartă, cu numărul **8** se numește...
3. Este situat în Podișul Sucevei orașul marcat, pe hartă, cu numărul ...

6 puncte

C. Scrieți, pe foaia de examen, litera corespunzătoare răspunsului corect pentru fiecare dintre afirmațiile de mai jos:

1. Râul marcat, pe hartă, cu numărul **3** se numește:

a. Bega b. Cerna c. Mureș d. Timiș **2 puncte**

2. Influențe climatice submediteraneene pătrund în unitățile de relief marcate, pe hartă, cu literele:

a. A și C b. B și G c. D și F d. E și H **2 puncte**

3. Soluri din clasa spodosoluri (de tip podzol) se găsesc în unitatea de relief marcată, pe hartă, cu litera:

a. B b. C c. D d. F **2 puncte**

4. Orașul marcat, pe hartă, cu numărul **7** se numește:

a. Pitești b. Râmnicu Vâlcea c. Slatina d. Târgu Jiu **2 puncte**

5. Râul marcat, pe hartă, cu numărul **1**:

a. formează limita între Munții Banatului și Grupa Retezat-Godeanu
b. izvorăște din Munții Parâng
c. străbate orașul Petroșani
d. străbate un bazin carbonifer

2 puncte

D. Prezentați trei deosebiri între **relieful** unității marcate, pe hartă, cu litera **B** și **relieful** unității marcate, pe hartă, cu litera **H**.

Nota 1: Deosebirile se pot referi la oricare dintre următoarele aspecte ale **reliefului**: mod de formare, categorii/tipuri de roci pe care s-a format relieful, altitudini, gradul de fragmentare, trepte de relief, tipuri genetice de relief, orientarea culmilor și a văilor principale, dispunerea depresiunilor, alte aspecte specifice ale reliefului.

Nota 2: Punctajul complet va fi acordat numai dacă cele trei deosebiri vor fi prezentate comparativ și nu separat.

Nota 3: Nu este necesară precizarea numelor unităților de relief, se poate face referire la unitățile de relief respective cu literele cu care sunt marcate pe hartă.

6 puncte

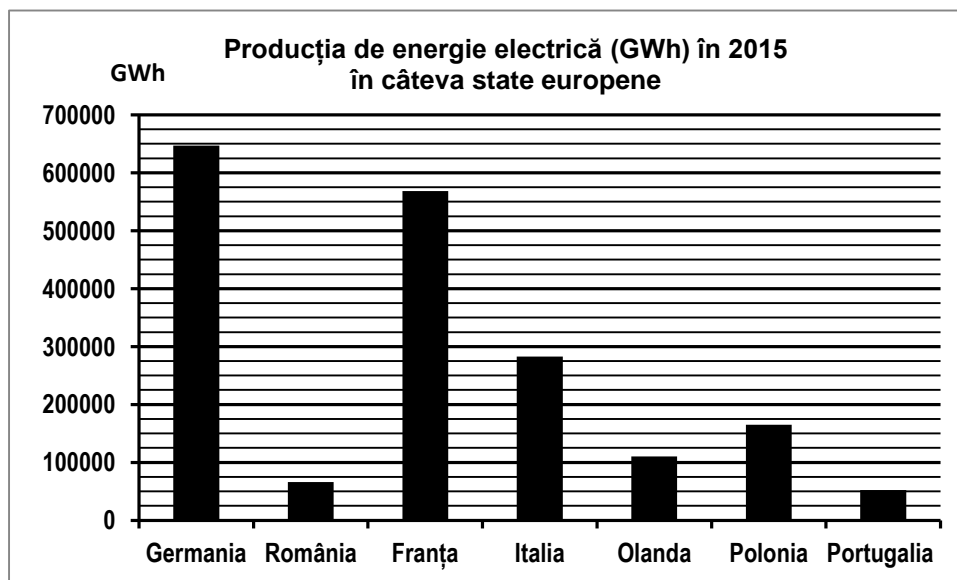
E. 1. Prezentați un element (o premisă) natural(ă) care favorizează cultivarea cerealelor în unitatea de relief marcată, pe hartă, cu litera **F**.

2. Precizați două resurse de subsol din unitatea de relief marcată, pe hartă, cu litera **A**. **4 puncte**

SUBIECTUL al III-lea

(30 de puncte)

Reprezentarea grafică de mai jos se referă la subiectul III **A-B** și prezintă producția de energie electrică (în GWh) în câteva state europene, în anul 2015.



A. Precizați:

1. valoarea producției de energie electrică înregistrate în România;
2. valoarea producției de energie electrică înregistrate în Polonia;
3. numele statului care înregistrează cea mai mică producție de energie electrică și valoarea acesteia.

4 puncte

- B. 1.** Calculați diferența dintre producția de energie electrică obținută în statele Germania și Franța.
2. Calculați diferența dintre producția de energie electrică obținută în statele Italia și Olanda.
3. Precizați numele a două hidrocentrale din România.

6 puncte

C. Pentru Serbia, precizați numele a:

1. trei state vecine;
2. două unități de relief;
3. trei cursuri de apă;
4. două orașe.

10 puncte

D. Tabelul de mai jos prezintă numărul populației urbane și rurale în două județe din România, în anul 2017.

Județul	Total populație	Populație urbană	Populație rurală
Vaslui	384.144 persoane	155.370 persoane	x
Hunedoara	393.154 persoane	x	101.561 persoane

Sursa: INSSE

1. Calculați numărul populației rurale din județul Vaslui.
2. Calculați numărul populației urbane din județul Hunedoara.
3. Precizați o cauză care determină diferența în ceea ce privește numărul populației urbane între cele două județe, deși numărul total al populației este aproximativ egal.

6 puncte

E. Explicați:

1. faptul că în Ungaria, terenurile arabile dețin un procent mare (circa 80%) din totalul suprafețelor agricole utilizate;
2. lipsa viețuitoarelor din Marea Neagră la adâncimi mai mari de 200 m.

4 puncte